








 36 VK - %	 6 VK - %
 44 VK - %	 9 VK - %
 72 VK - %	 45 VK - %
 27 VK - %	 15 VK - %
 44 VK - %	 3 VK - %

Hvor meget er 10% af 60?	Hvor meget er 90% af 40?
Hvor meget er 20% af 45?	Hvor meget er 80% af 55?
Hvor meget er 60% af 75?	Hvor meget er 90% af 80?
Hvor meget er 30% af 50?	Hvor meget er 90% af 30?
Hvor meget er 30% af 10?	Hvor meget er 80% af 55?